

## 4. La població d'Espanya i la d'Europa

### LÀMINA 9A. Les migracions a Espanya els segles XIX i XX

3. Completa el mapa de les migracions a Espanya:

- Pinta les fletxes que surten cap a Europa i la fletxa que indica la migració cap a l'Amèrica Llatina amb els colors que hi ha indicats a la llegenda.
- Pinta les fletxes de les migracions interiors d'Espanya al segle XX i les províncies receptores d'emigrants segons els colors que indica la llegenda.
- Escriu a les pautes corresponents els llocs cap on varen emigrar els espanyols els segles XIX i XX.

### LÀMINA 9B. La immigració a Espanya

4. Completa el mapa de la immigració a Espanya:

- Pinta les comunitats autònomes segons el percentatge d'immigrants estrangers que resideixen a cada una. Per fer-ho segueix la classificació dels colors que indica la llegenda.
- Escriu a les pautes del mapa el nom de les comunitats autònomes i el dels països d'on procedeixen els residents estrangers a Espanya.

### LÀMINA 10. La població i les principals ciutats d'Europa

(explorador digital) LA POBLACIÓ EU  
www.fiching.com / 612344

5. Treballa el mapa de la distribució de la població europea:

- Pinta els estats europeus segons la densitat de població. Per fer-ho segueix la classificació dels colors que indica la llegenda del mapa i fixa't en aquesta informació:

– Més de 150 h./km<sup>2</sup>:

Alemanya, Bèlgica, els Països Baixos, el Regne Unit, Malta, Turquia, Mònaco, Ciutat del Vaticà, San Marino, Liechtenstein, Suïssa, Itàlia, Luxemburg, Andorra.

– De 100 a 150 h./km<sup>2</sup>:

Portugal, França, Dinamarca, Polònia, la República Txeca, Eslovàquia, Hongria, Moldàvia, Albània, Xipre.

– De 50 a 100 h./km<sup>2</sup>:

Espanya, Irlanda, Àustria, Eslovènia, Croàcia, Sèrbia, Bòsnia-Hercegovina, Macedònia, Grècia, Bulgària, Romania, Ucraïna, Bielorússia, Lituània.

– Menys de 50 h./km<sup>2</sup>:

Islàndia, Noruega, Suècia, Finlàndia, Rússia, Estònia, Letònia, Montenegro.

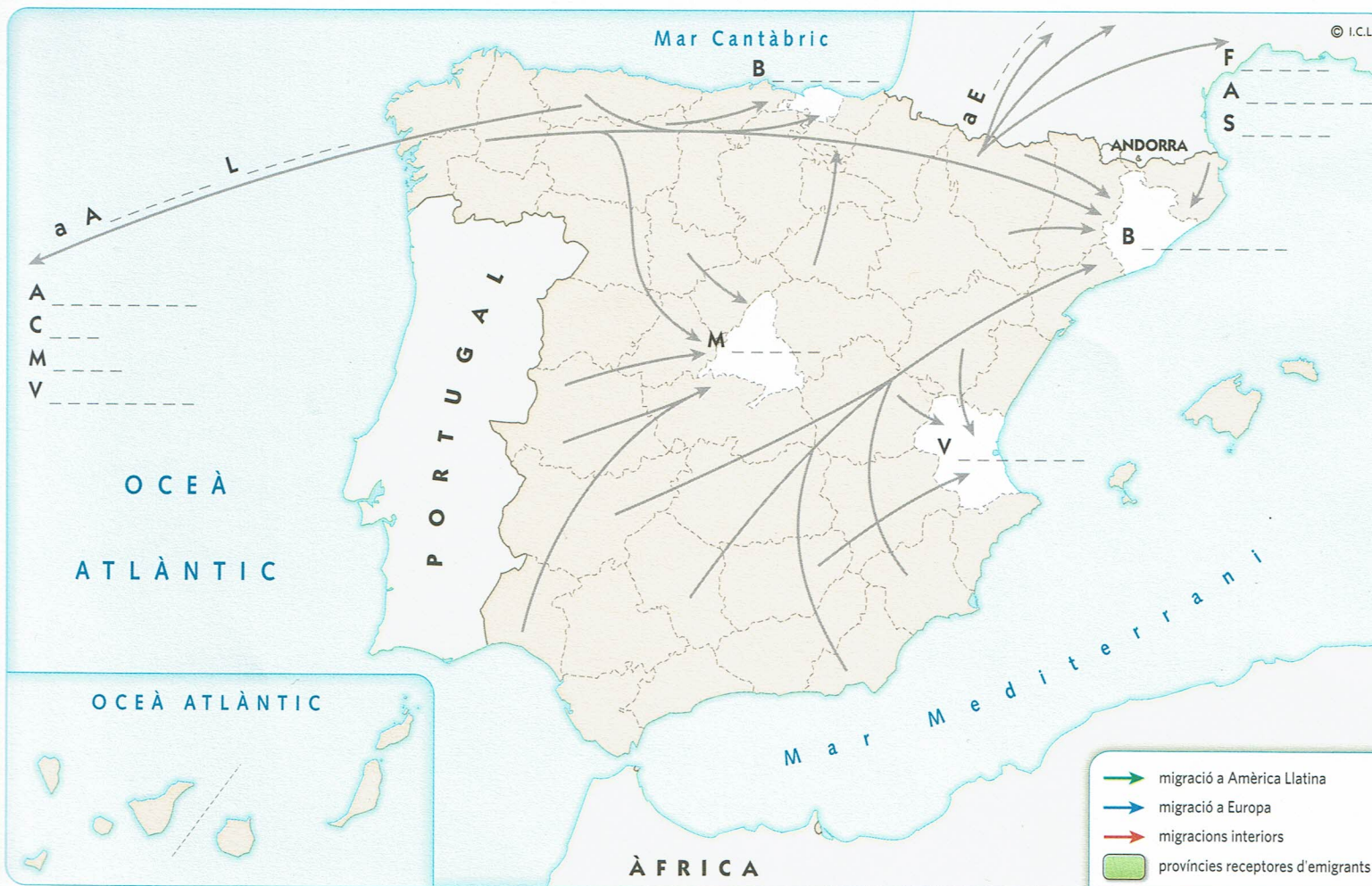
- Consulta un atlas i escriu a les pautes del mapa el nom de les ciutats d'Europa que tenen més d'1 500 000 habitants.

6. Observa el mapa quan l'hagis acabat i contesta les preguntes:

- Quins països estan densament poblats? .....

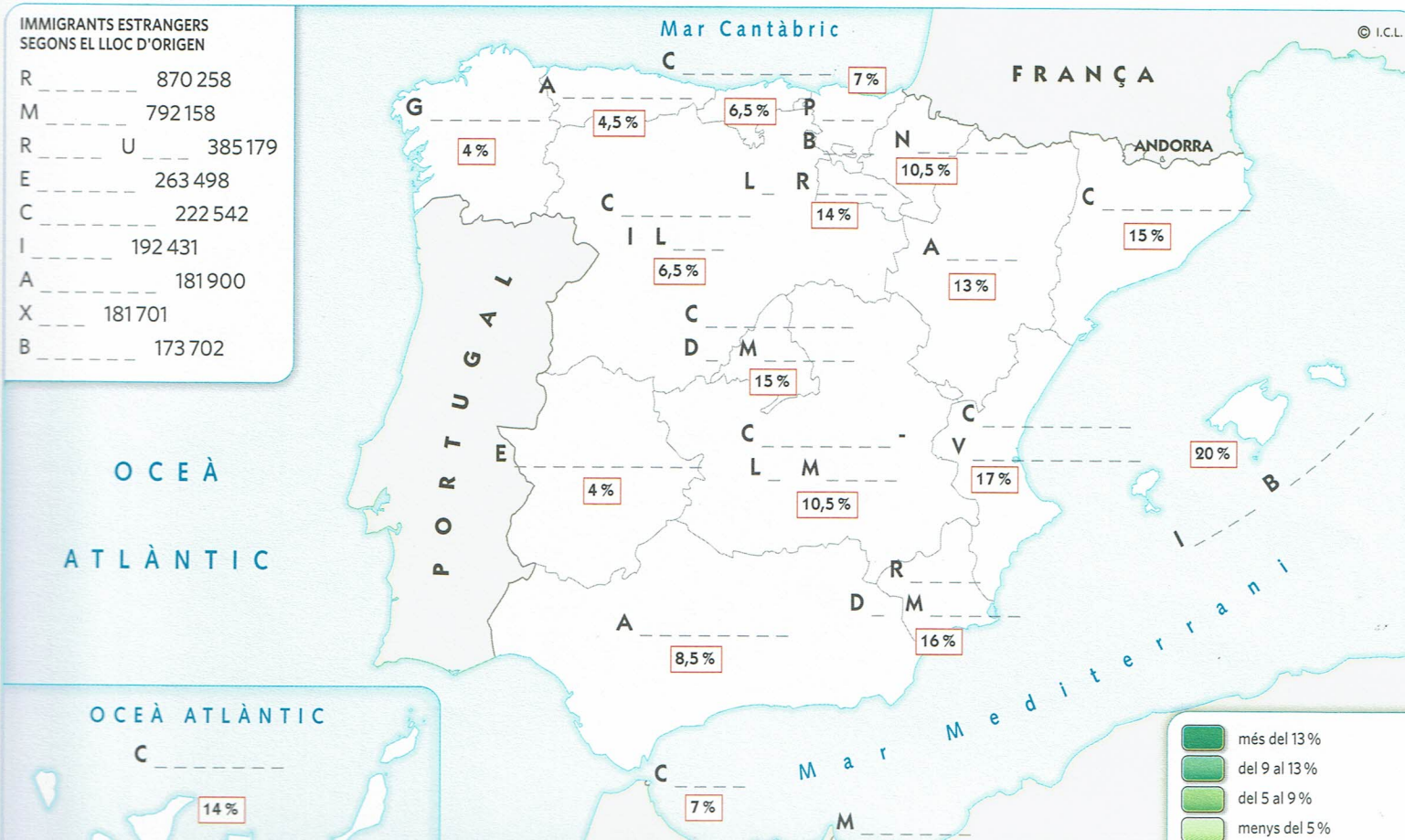
.....

- Quins països europeus tenen poca població? .....



IMMIGRANTS ESTRANGERS SEGONS EL LLOC D'ORIGEN

R	870 258
M	792 158
R U	385 179
E	263 498
C	222 542
I	192 431
A	181 900
X	181 701
B	173 702



# La població i les principals ciutats d'Europa

- B. ALBÀNIA
- H. BOSNIA I HERCEGOVINA
- V. CIUTAT DEL VATICÀ
- C. ESLOVÈNIA
- CH. LIECHTENSTEIN
- X. LUXEMBURG
- D. MACEDONIA
- M. MONTENEGRO
- A. SAN MARINO

més de 150 h./km<sup>2</sup>  
 de 100 a 150 h./km<sup>2</sup>  
 de 50 a 100 h./km<sup>2</sup>  
 menys de 50 h./km<sup>2</sup>  
 ciutats amb més d'1,5 milions d'habitants



## Desenvolupa habilitats múltiples

7. Llegeix les pistes i troba'n la solució:

- Nombre total de persones que viuen en un territori.
- Nombre de persones que viuen en un quilòmetre quadrat de superfície.
- Nombre de nins i nines que neixen en un lloc durant un any.
- Nombre de persones que es moren en un lloc durant un any.
- Mitjana d'anys que viu una població.
- Diferència entre la natalitat i la mortalitat en un territori.
- Diferència entre el nombre d'immigrants i el nombre d'emigrants d'un lloc.
- Suma del creixement natural de la població d'un lloc i el saldo migratori.

P..... absolut

D..... població

N.....

M.....

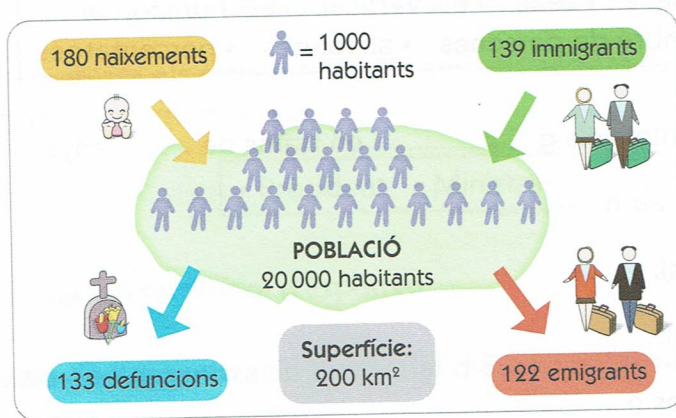
E..... vid

C..... natur

S..... migrato

C..... re

8. Observa el gràfic sobre els moviments que modifiquen la població d'una localitat imaginària:

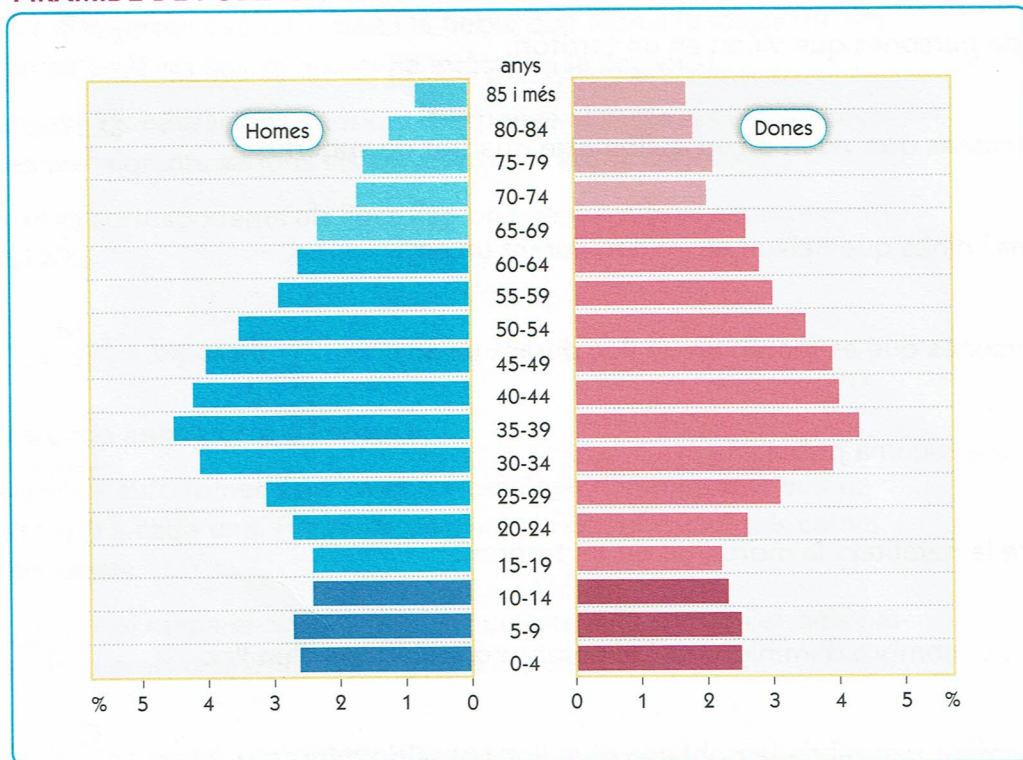


- a) Quants habitants viuen en aquesta localitat? Quina densitat de població té? .....
- b) Quins moviments fan que augmenti la població? .....
- c) Quins moviments fan que disminueixi? .....
- d) Fes les operacions necessàries per saber si la població ha augmentat o ha disminuït durant l'últim any. Quin n'és el resultat? .....

## 4. La població d'Espanya i la d'Europa

9. Observa la piràmide de població. Escriu cadascun dels noms del requadre a la pauta corresponent:

PIRÀMIDE DE POBLACIÓ D'ESPANYA EL 2013



- grups d'edat • 5 • homes • dones • base • tronc • cim
- jove • adulta • anciana • sexe • eix vertical • eix horitzontal
- esquerra • dreta • nombre de persones • absolutes • percentatges

- A l'e..... v..... hi ha representats els g..... en trams de ..... anys.
- A la part e..... hi ha representats els h.....
- B.....: població j..... (0 a 14 anys).
- C.....: població a.....(+65 anys).
- A la part d..... hi ha representades les d.....
- T.....: població a..... (15 a 64 anys).
- A l'e..... h..... hi ha representat el n..... de p..... de cada s..... en xifres a..... o en p..... sobre la població total.

10. Ara interpreta la informació que ens ofereix la piràmide de població d'Espanya:

- a) Neixen més nins o més nines? .....
- b) Quin és el grup d'edat més nombrós? .....
- c) A quin grup d'edat hi ha més diferència entre homes i dones? .....
- d) La natalitat que s'observa és alta o baixa? Com ho dedueixes? .....