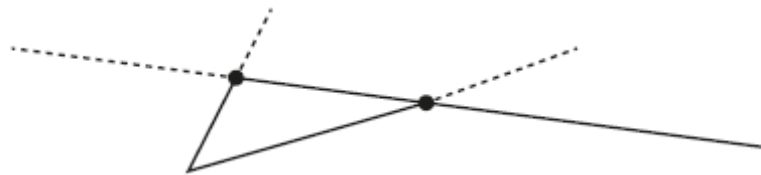



8	Nom i llinatges: Data:	AV
----------	---------------------------------------	-----------

1 Pinta de vermell una semirecta; de verd, un segment; de groc, un angle agut, i de blau, un angle obtús.



2 a) Descriu el gir que realitza en cada cas.



A

B

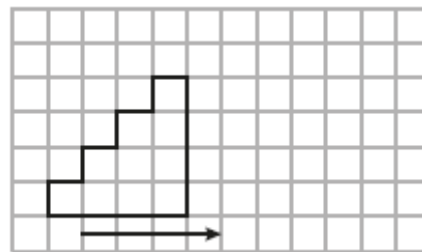
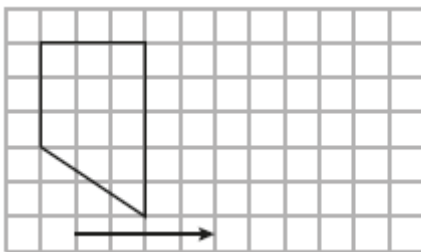
C

.....

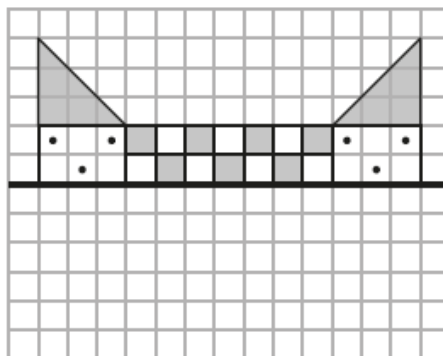
.....

.....

b) Dibuixa la figura que resulta d'aplicar les translacions que indiquen les fletxes.



3 Dibuixa la figura simètrica respecte de l'eix que s'assenyala.



8

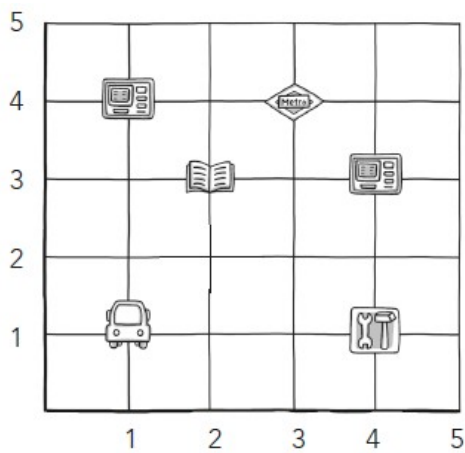
Nom i llinatges:

Data:

Matemàtiques 4t.....

AV

- 4 Indica les coordenades que corresponen a cada icona. Dibuixa la icona de correus en el punt (2, 2).



-  Biblioteca
-  Caixaer
-  Taller
-  Metro
-  Autobús
-  Correos

5 . Calcula les divisions:

a) $45638 : 6$

b) $85428 : 42$